

Hoe laat is het?

Zoek de klokken bij de tijden

Half zes

Tien over tien

Zeven voor half twaalf

Elf uur

Vijf over half zes

Twee uur

Kwart voor vier

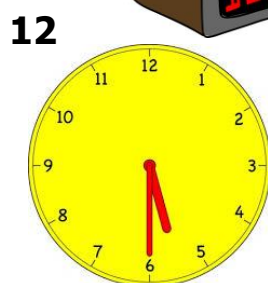

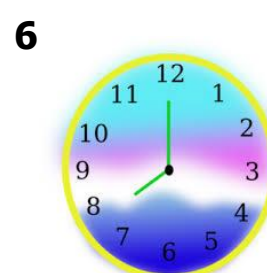


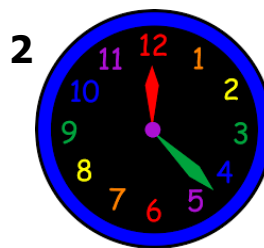
Acht uur

Vijf over half één

Kwart over twaalf

Vijf voor twaalf

Drie uur



Hoe laat is het op deze klokken:

1. De staande klok (9) : _____

2. De digitale wekker (10) : _____

3. De gele klok (12) : _____

4. De klok met planeten (4): _____

5. De klok met een gezicht (11): _____